

۲۱

دفترچه‌ی
شماره‌ی

انتشارات سمرشگ

موسسه‌ی
سمرشگ

پایه اول

+
مهارت
محور

پایه ششم

بیک‌جای آدینه سوم دبستان

÷

قرآن: صفحه‌ی ۱۰۱

فارسی: درس پانزدهم (دریا)

ریاضی: دوره و فصل ششم (جمع با انتقال در جدول ارزش مکانی)

علوم: درس دوازدهم (هر کدام جای خود ۱)

مطالعات اجتماعی: درس هفدهم (از خانه محافظت کنیم)

هدیه‌های آسمان: درس پانزدهم (همسفر ناشناس)

پایه دوم

پایه پنجم

۵



پایه چهارم

پایه سوم

۲

از قدیم گفته‌اند: از تو حرکت، از خدا برکت.

قرآن

* معنی پیام قرآنی صفحه‌ی ۱۰۱ را بنویس و از روی آن بخوان.

فارسی

۱ جمله‌ها را کامل کن.

معلم مثل است؛ چون

دریا مثل است؛ چون

۲ چهار کلمه بنویس که مانند نمونه با «سر» شروع شده باشد.

سربلند

۳ به کلمه‌های زیر، نشانه‌ی «ه» اضافه کن و آن‌ها را بنویس.

دماغ + ه ← چشم + ه ←


ساق + ه ← دندان + ه ←

گردن + ه ← دست + ه ←

حالا شما فکر کن و چند نمونه‌ی دیگر بنویس.

.....

.....



۴ املای کدام کلمه نادرست است؟ × بزن.

الف) موج ب) زلال ج) ساحل د) قوطه

ریاضی

۱ حامد ۳۵۴۱ ریال پس انداز داشت. او ۴۳۵۸ ریال دیگر هم در قلک خود ریخت.

ی	د	ص	ه
۱	۴	۵	۳
۸	۵	۳	۴

حالا حامد چند ریال پول دارد؟


سکه‌های ۱ ریالی حامد چند تا است؟

سکه‌های ۱۰۰ ریالی حامد چند تا است؟


۲ با توجه به شکل، عدد مربوطه را در جدول ارزش مکانی بنویس؛ سپس حاصل جمع

را به دست بیاور.

ی	د	ص	ه
.....
.....



۳ محیط مستطیل را به دو صورت به دست بیاور.



$$\text{محیط مستطیل} = \dots + \dots + \dots + \dots = \dots$$

$$\text{محیط مستطیل} = (\dots \times \dots) + (\dots \times \dots) = \dots$$

۴ در یک کارخانه‌ی پارچه‌بافی، یک روز ۴۳۵۹ متر و روز بعد ۷۰۱۲۳ متر پارچه بافته

شد. در این دو روز چند متر پارچه بافته شده است؟

۵ حاصل جمع بزرگترین عدد چهار رقمی و کوچکترین عدد سه رقمی با عدد را به دست بیاور.



۶ کتابی ۲۳۰۰ صفحه دارد. مینا هفته‌ی اول ۴۳۵ صفحه و هفته‌ی دوم ۲۵۰ صفحه از کتاب را خواند. مینا چند صفحه از کتاب را هنوز مطالعه نکرده است؟

۷ کامل کن.

اگر ۱۰ سکه‌ی ۱۰ ریالی بدهیم، باید سکه‌ی صد ریالی بگیریم.

اگر ۱۰ سکه‌ی ۱ ریالی بدهیم، باید یک سکه‌ی بگیریم.

اگر ۱۰ سکه‌ی ۱۰۰ ریالی بدهیم، باید سکه‌ی هزار ریالی بگیریم.

علوم

۱ غواصان برای تنفس از چه وسیله‌ای استفاده می‌کنند؟

.....

۲ چرا جانوران در جاهای مختلف، زندگی می‌کنند؟

.....

۳ ماهی‌ها با چه وسیله‌ای تنفس می‌کنند؟

ما با چه وسیله‌ای تنفس می‌کنیم؟





۴ چهار جمله درباره‌ی ماهی‌ها بنویس تا آن‌ها را بهتر بشناسیم.

- (الف)
- (ب)
- (ج)
- (د)

۵ درباره‌ی تصویرهای زیر، دو جمله بنویس.



-
-

۶ کدام ماهی می‌تواند از آب بیرون بیاید و در هوا پرید؟

مطالعات اجتماعی

(الف) کامل کن.

* شعله‌ی بخاری باید رنگ باشد.

(ب) کامل کن.

۱ چگونه شخصی دچار برق گرفتگی می‌شود؟

-

۲ اگر در خانه، بوی گاز احساس کردیم، چه باید بکنیم؟

.....

.....

هدیه‌های آسمان

۱ چرا امام چهارم (ع) به لقب‌های سجّاد و زین‌العابدین معروف شده‌اند؟



.....

۲ مرقد مطهر امام سجّاد (ع) در است.

۳ کتاب امام سجّاد (ع) که شامل مجموعه‌ای از دعاهای ایشان است، چه نام دارد؟

.....



۱ اگر روزانه پول توجیبی می‌گیری، حساب کن چند تومان در یک هفته می‌گیری و در یک ماه چند ریال می‌گیری؟

۲ در کتاب علوم نام یک ماهی شگفت‌انگیز آورده شده است. تحقیق کن و یک نوع ماهی شگفت‌انگیز دیگر پیدا کن و مشخصات آن را بنویس.

۳ تاکنون شاهد اتفاقی بوده‌اید که برای آن نیروهای امدادی اورژانس یا آتش‌نشانی به محل شما بیایند؟ حادثه را توضیح بده.