

به نام خدا

نام: .....

نام خانوادگی: .....

کلاس: .....

نام مرکز: .....

## فارسی اول دبستان

صفحات: تا آخر نگاره ۱۰

نادرست	درست
<input type="checkbox"/>	<input type="checkbox"/>
<input type="checkbox"/>	<input type="checkbox"/>
<input type="checkbox"/>	<input type="checkbox"/>
<input type="checkbox"/>	<input type="checkbox"/>



الف) جمله‌های درست یا نادرست را با علامت ✓ مشخص کن.

۱ چراغ راهنمایی سه رنگ دارد.

۲ رنگ‌های پرچم ایران سبز، سفید و زرد است.

۳ در کلاس، میز و نیمکت است.

۴ گوزن شاخ دارد.

ب) تصاویر مربوط به هم را به یکدیگر وصل کن.



ج) پاسخ درست را با علامت ✓ مشخص کن.

۱ کدام یک در روستا نیست؟



۲ صدای اول کدام تصویر با بقیه فرق دارد؟



۳ کدام یک در مسجد است؟



۴ صدای آخر نام کدام تصویر با بقیه فرق دارد؟





به نام خدا

نام: .....

نام خانوادگی: .....

کلاس: .....

نام مرکز: .....

## ریاضی اول دبستان

صفحات: تا آخر تم ۴ صفحه‌ی ۲۸

نادرست	درست
<input type="checkbox"/>	<input type="checkbox"/>
<input type="checkbox"/>	<input type="checkbox"/>
<input type="checkbox"/>	<input type="checkbox"/>
<input type="checkbox"/>	<input type="checkbox"/>



الف) جمله‌های درست یا نادرست را با علامت ✓ مشخص کن.


۱) این انگشتان عدد ۳ را نشان می‌دهد.

۲) تعداد انگشتان باز شده‌ی دست با مثل هم است.

۳) چوب‌خطها // مجموع انگشتان باز شده‌ی دو دست را نشان می‌دهد.

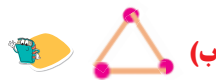
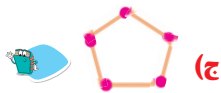
۴) این شکل با ۵ چوب‌کبریت درست شده است.

ب) هر چوب‌خط مربوط به کدام دسته است؟ وصل کن.



ج) پاسخ درست را با علامت ✓ مشخص کن.

۱) کدام شکل ۵ گوشه دارد؟



۲) کدام گزینه الگو ندارد؟



۳) به کدام دسته دو تا اضافه کنیم با انگشتان مقابل برابر می‌شود؟



۴) تعداد چوب‌کبریت‌های کدام شکل با تعداد انگشتان شکل مقابل برابر است؟




د) پاسخ هر سؤال را بنویس.

۱ الگو را ادامه بده.



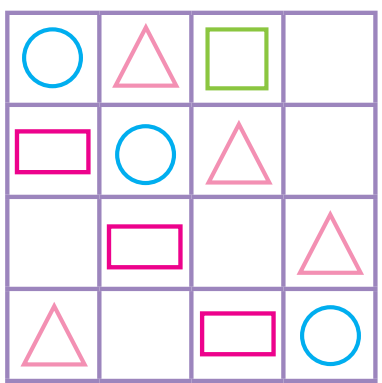
۲ به تعداد هر شکل، خانه‌ی روبه‌روی آن را رنگ کن.



۳ با توجه به تعداد انگشتان در هر تصویر چوب‌خط رسم کن.



۴ جدول شگفت‌انگیز را کامل کن.



۵ ۳ پروانه و ۴ گل را جدا کن و هر کدام را داخل خط بسته قرار بده.



خودسنجی

نقاط قوت:

نوصیه‌ها:

