

به نام خدا

نام: .....

نام خانوادگی: .....

کلاس: .....

نام مرکز: .....

## فارسی چهارم دبستان

صفحات: تا آخر درس ۲

نادرست	درست
<input type="checkbox"/>	<input type="checkbox"/>
<input type="checkbox"/>	<input type="checkbox"/>
<input type="checkbox"/>	<input type="checkbox"/>
<input type="checkbox"/>	<input type="checkbox"/>



(الف) جمله‌های درست یا نادرست را با علامت ✓ مشخص کنید.

۱ داور مسابقه‌ی فصل‌ها، خورشید بود.

۲ هر پرستو ۴ تا ۶ تخم سفید می‌گذارد.

۳ شاعر شعر «خبرداغ»، شکوه قاسم‌نیا است.

۴ در پایان جمله‌ی خبری، علامت ویرگول می‌گذاریم.

(ب) هر کلمه را به مخالف آن وصل کنید.

• ضخیم

• اوایل

• اواخر

• انبوه

• آشکار

• لطیف

• اندک

• نهان



(ج) پاسخ درست را با علامت ✓ مشخص کنید.

۱ معنی کلمه‌ی «غوک» چیست؟

الف) پرنده ب) گلگون ج) قورباغه د) رنگ قرمز

۲ این بیت از کیست؟

«برگ درختان سبز در نظر هوشیار \*\*\* هر ورقش دفتری است معرفت کردگار»

الف) مولوی ب) سعدی ج) نظامی د) حافظ

۳ کدام گزینه جای خالی را کامل می‌کند؟ «مرغ ..... غاز است.»

الف) همسایه ب) زرد ج) خارجی د) سفید

۴ معنای واژه‌ی «پیشین» کدام است؟

الف) بعدی ب) گذشته

ج) آینده د) جلو



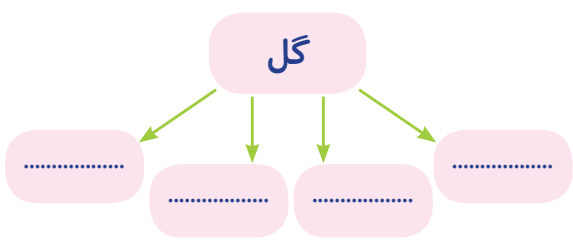
د) جاهای خالی را با کلمه‌های مناسب کامل کنید.



- ۱ شاعر شعر «ستایش»، ..... است.
- ۲ هم‌معنی کلمه‌ی «اوایل»، ..... است.
- ۳ ..... را هر وقت از آب بگیری تازه است.
- ۴ هم‌خانواده‌ی کلمه‌ی «لطیف» ..... است.

ه) به پرسش‌های زیر، پاسخ دهید.

۱ شبکه‌ی معنایی زیر را کامل کنید.



۲ کلمه‌هایی که از نظر املايي درست نوشته نشده‌اند را پیدا کنید و شکل درست آن‌ها را بنویسید. در این صفر تولانی، خترهای بسیاری وجود دارد. یکی از آن‌ها، تقییرات هواست.



۳ در کلمه‌های زیر، حرفی جا افتاده است کلمه‌ها را کامل کنید.

س.....ح      دل انگی.....      ت.....ویر      ش.....شر نازک

۴ کلمه‌های درهم‌ریخته‌ی زیر را مرتب کنید.

\* دارد - که - فراوانی - دنیایی - زندگی - ما - آن - می‌کنیم - شگفتی‌های - در

۵ درباره‌ی ضرب‌المثل «سحرخیز باش تا کامروا باشی». یک بند بنویسید.

.....

.....

.....

خودسنجی

نقاط فوت: \_\_\_\_\_

توصیه‌ها: \_\_\_\_\_

به نام خدا

## هدیه‌های آسمان چهارم دبستان

نام: .....

نام خانوادگی: .....





کلاس: .....

نام مرکز: .....

صفحات: تا صفحه‌ی ۱۹

نادرست	درست
<input type="checkbox"/>	<input type="checkbox"/>
<input type="checkbox"/>	<input type="checkbox"/>
<input type="checkbox"/>	<input type="checkbox"/>
<input type="checkbox"/>	<input type="checkbox"/>

الف) جمله‌های درست یا نادرست را با علامت ✓ مشخص کنید.

- حضرت موسی (ع) پیامبر قوم بنی‌اسرائیل بود. 
- فرعون دستور داد هر نوزاد پسری که به دنیا می‌آید فوراً زندانی شود. 
- اگر همه‌ی دندان‌های ما یک شکل بودند، نمی‌توانستیم به راحتی غذا بخوریم. 
- علاقه فرعون به موسی باعث نجات او از مرگ شد. 

ب) عبارت‌های مرتبط را به یکدیگر وصل کنید.

- به آب انداختن کودک
- شیر نخوردن کودک از زنان شهر
- ایستادگی آسیه در برابر فرعون
- مبارزه با ستم حتی در مقابل همسر
- امید مادر به لطف خدا
- خواست و اراده‌ی خدا

ج) پاسخ درست را با علامت ✓ مشخص کنید.


۱) مادر حضرت موسی (ع) صندوق را داخل کدام رودخانه انداخت؟ 

- الف) کارون     ب) فرات     ج) دجله     د) نیل 


۲) اولین زنی که به پیامبری حضرت موسی (ع) ایمان آورد که بود؟ 

- الف) خدیجه     ب) مریم     ج) آسیه     د) فاطمه 

۳) «قدیر» به چه معناست؟ 

- الف) دارای قدر     ب) توانا     ج) عالم     د) خداوندا 

۴) خداوند نیاز نوزاد به غذا را به وسیله‌ی چه چیزی برطرف می‌کند؟ 

- الف) شیر     ب) غذا     ج) انار     د) چهارگروه مواد غذایی 

د) جاهای خالی را با کلمه‌های مناسب کامل کنید.



- ۱ ..... در خواب دید که پسری حکومت او را از بین می‌برد.
- ۲ ..... خداوند را برای آرامش و استراحت قرار داده است.
- ۳ ..... دنبال صندوق حضرت موسی (ع) تا قصر فرعون رفت.
- ۴ ..... خداوند در قرآن کریم، آسیه این بانوی نیکوکار را ..... معرفی می‌کند.

ه) به پرسش‌های زیر، پاسخ دهید.



۱ حضرت موسی (ع) در چه کشوری پیامبر شد؟

۲ پادشاه زمان حضرت موسی (ع) که بود؟

۳ خدای مهربان برای برطرف شدن نیازهای ما چه چیزهایی قرار داده است؟ چهار مورد را بنویسید.

۴ معنای آیه‌ی «إِنَّ اللَّهَ عَلَىٰ كُلِّ شَيْءٍ قَدِيرٌ وَ إِنَّ اللَّهَ قَدْ أَحَاطَ بِكُلِّ شَيْءٍ عِلْمًا» چیست؟ این آیه چه مفهومی را بیان می‌کند؟

۵ خداوند برای برطرف کردن نیازهای طوطی و اسب چه آفریده است؟

۶ برای رشد گیاهان چه چیزهایی لازم است؟

خودسنجی

نقاط قوت:

توصیه‌ها:



نام: .....

نام خانوادگی: .....

کلاس: .....

نام مرکز: .....

## مطالعات اجتماعی چهارم دبستان

صفحات: تا آخر فصل ۱

نادرست	درست
<input type="checkbox"/>	<input type="checkbox"/>
<input type="checkbox"/>	<input type="checkbox"/>
<input type="checkbox"/>	<input type="checkbox"/>
<input type="checkbox"/>	<input type="checkbox"/>



الف) جمله‌های درست یا نادرست را با علامت ✓ مشخص کنید.

۱) موقع خداحافظی با مهمان‌ها با صدای بلند صحبت نکنیم.

۲) مسجد تنها محل برگزاری مراسمی چون دعا و عزاداری است.

۳) در هر محله امکاناتی برای استفاده‌ی همه‌ی مردم ایجاد شده است.

۴) بوستان، محل برگزاری مراسم جشن‌های مذهبی است.

ب) هر تصویر در نقشه چه چیزی را نشان می‌دهد؟ وصل کنید.



- پل
- جاده
- پمپ بنزین
- رستوران



ج) پاسخ درست را با علامت ✓ مشخص کنید.

۱) کدام یک از کارهای زیر در مسجد انجام نمی‌شود؟

الف) مشورت افراد محله با یکدیگر برای حل مشکلات محله

ب) برگزاری دعا و مراسم عزاداری

ج) برگزاری همه‌ی جشن‌ها

د) عبادت خدا و باخبر شدن افراد از حال یکدیگر

۲) کدام مورد دربارهی مقررات یک محله نادرست است؟

الف) توپ‌بازی در زمان استراحت همسایه‌ها

ب) ترقه‌بازی نکردن در ساختمان محل زندگی یا کوچه، خیابان و محله

ج) بلند نکردن صدای تلویزیون و رادیو

د) گذاشتن زباله‌ها در جای مخصوص در خیابان در همه‌ی ساعات از روز

۳) کدام یک از موارد زیر، جزو امکانات عمومی یک محله نیست؟

الف) باجه‌ی تلفن

ب) ایستگاه اتوبوس

ج) دستگاه خودپرداز پول

د) خانه‌های مسکونی

۴ اگر هیچ وقت به جایی نرفته باشیم، با استفاده از نقشه می توانیم بفهمیم که:

- الف) آن محل کجاست.  **ب** چگونه می شود به آن جا رفت.   
 ج) از چه راهی می شود به آن جا رفت.  **د** همه ی موارد 

د) جاهای خالی را با کلمه های مناسب کامل کنید.

۱ پیامبر اسلام (ص) فرمودند: اگر می خواهید خدا و پیامبر (ص) شما را دوست داشته باشند

..... و ..... باشید و با ..... خود به نیکی رفتار کنید.

۲ برای تهیه ی نقشه از ..... استفاده می کنند.

۳ کنار هر نقشه یک ..... وجود دارد.

۴ امام جماعت جلوتر از همه در ..... قرار می گیرد.



ه) به پرسش های زیر، پاسخ دهید.

۱ محله را تعریف کنید.

۲ با گذشت زمان در محله چه تغییراتی می تواند به وجود آید؟ (۲ مورد)

۳ جدول بودجه چیست؟

۴ راهنمای نقشه چه کمکی به ما می کند؟

بازخورد آموزگار

نقاط قوت: 

توصیه ها: 

صفحات: تا آخر درس ۲

نادرست	درست
<input type="checkbox"/>	<input type="checkbox"/>
<input type="checkbox"/>	<input type="checkbox"/>
<input type="checkbox"/>	<input type="checkbox"/>
<input type="checkbox"/>	<input type="checkbox"/>



الف) جمله‌های درست یا نادرست را با علامت ✓ مشخص کنید.

۱ هر چه اندازه‌ی حل‌شونده بزرگ‌تر باشد، راحت‌تر و زودتر در حلال حل می‌شود.

۲ محلول آب‌نمک یک محلول مایع در مایع است.

۳ بیش‌تر مواد در اطراف ما به‌صورت مخلوط هستند.

۴ لباس سفید رنگ برای فصل زمستان مناسب است.

ب) هر عبارت را به مفهوم مربوط به آن وصل کنید.

• روش جداسازی مخلوط‌ها

• مخلوط غیریکنواخت

• آجیل

• مخلوط شفاف و بی‌رنگ

• مخلوط مناسب برای سلامتی

• ادویه‌ها

• آب و پودر قند

• تبخیر کردن

ج) پاسخ درست را با علامت ✓ مشخص کنید.

۱ کدام عامل بیش‌ترین تأثیر را در حل شدن قند در آب دارد؟

ب) داغ بودن

الف) خرد کردن

د) نوع قند

ج) به هم زدن

۲ در کدام‌یک از مخلوط‌های زیر، مواد با روش صاف کردن جدا می‌شوند؟

ب) آب و نمک

الف) آب و ماسه

د) آب و قند

ج) آب و شکر

۳ کدام‌یک محلول است؟

ب) روغن زیتون و الکل

الف) سنگ و آجر

د) الکل در آب

ج) بنزین در آب

۴ با چه روشی می‌توان محلول آب و نمک را از هم جدا کرد؟

ب) بخار کردن

الف) صاف کردن

د) حل کردن

ج) به هم زدن

## د) جاهای خالی را با کلمه‌های مناسب کامل کنید.

- ۱ کاری که بعد از فرضیه‌سازی در یک مسئله علمی باید انجام دهیم ..... است.
- ۲ خاکشیر یک مخلوط ..... در ..... است.
- ۳ در تابستان پوشیدن لباس‌هایی با رنگ ..... پیشنهاد می‌شود.
- ۴ در محلول آب و نمک، آب ماده‌ی ..... و نمک ماده‌ی ..... است.



## ه) به پرسش‌های زیر، پاسخ دهید.

۱ اصطلاحات زیر را تعریف کنید.

الف) مخلوط یکنواخت:

ب) مخلوط غیریکنواخت:

۲ روش‌های جداسازی مخلوط‌ها را نام ببرید.

۳ از کدام مخلوط‌ها در ساختمان‌سازی استفاده می‌کنند؟

۴ در روش علمی بعد از جمع‌آوری اطلاعات، چه کاری انجام می‌شود؟

۵ برای هر کدام از انواع مخلوط‌های زیر، دو مثال بزنید.



مایع در مایع	جامد در مایع	جامد در جامد

۶ چرا نباید شوینده‌های مختلف را با هم مخلوط کنیم؟

## ارزیابی والدین

نقاط قوت:

توصیه‌ها:



به نام خدا

نام: .....

نام خانوادگی: .....

کلاس: .....

نام مرکز: .....

## ریاضی چهارم دبستان

صفحات: فصل ۱

نادرست	درست
<input type="checkbox"/>	<input type="checkbox"/>
<input type="checkbox"/>	<input type="checkbox"/>
<input type="checkbox"/>	<input type="checkbox"/>
<input type="checkbox"/>	<input type="checkbox"/>



الف) جمله‌های درست یا نادرست را با علامت ✓ مشخص کنید.

۱ ارزش مکانی رقم ۳ در عدد ۲۳۴۵۶۰۹۸۱ یکان میلیون است.

۲ در الگوی عددی (؟، ۵۰، ۵۶، ۶۰، ۶۲) به جای ؟ عدد ۴۶ را می‌توان نوشت.

۳ یک میلیون برابر ۱۰ تا ۱۰۰۰ تایی است.

۴ عدد ۶۷۰۰۳۰ یک عدد شش رقمی است.

ب) هر عدد پا رقم را به عدد پا حروف آن، وصل کنید.

• شش میلیون و شصت هزار و ششصد • ۶۰۰۶۰۶۰

• شش میلیون و شش هزار و ششصد • ۶۰۶۰۶۰۰

• شش میلیون و شش هزار و شصت • ۶۰۶۰۰۰۶۰

• شصت میلیون و ششصد هزار و شصت • ۶۰۰۶۶۰۰

ج) پاسخ درست را با علامت ✓ مشخص کنید.

۱ در الگوی مقابل، پنجاهمین عدد را پیدا کنید. ۱، ۴، ۹، ۱۶، ۲۵ ...

الف) ۲۵۰ • ب) ۲۵۰۰ • ج) ۱۵۰۰ • د) ۱۵۰

۲ ارزش مکانی رقم ۸ در عدد ۸۴۵۰۰۲۳۴ کدام است؟

الف) دهگان • ب) دهگان هزار

ج) دهگان میلیون • د) یکان هزار



۳ چرتکه‌ی مقابل، چه عددی را نشان می‌دهد؟

الف) ۸۵۱۳۰۶۰۴۳ • ب) ۶۵۱۳۰۶۰۵۳

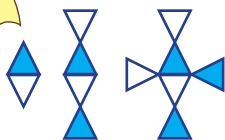
ج) ۹۶۰۳۱۵۲۸۴ • د) ۳۴۰۶۰۳۱۵۷



۴ با توجه به الگوی مقابل، در شکل هفتم چند مثلث آبی وجود دارد؟

الف) ۵ • ب) ۴

ج) ۷ • د) ۸





(د) جاهای خالی را با عدد یا کلمه‌های مناسب کامل کنید.

۱ با حذف رقم‌های طبقه‌ی یکی‌ها و هزارها عدد  $۳۲۴۹۷۱۲۳$  و قرار دادن صفر، عدد ..... (با حروف) به دست می‌آید.

۲ قیمت تقریبی یک یخچال ..... تومان است.




۳ ۱۰۰ بسته‌ی هزارتایی برابر ..... و سه بسته‌ی ۱۰۰۰ تایی ..... است.

۴ ارزش این اسکناس‌ها ..... برابر ..... ریال است.



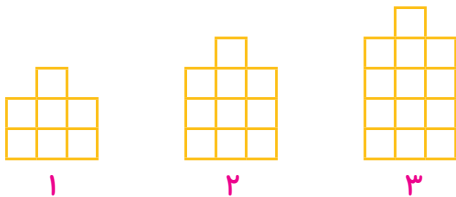
(ه) به پرسش‌های زیر، پاسخ دهید.

۱ با توجه به شکل‌ها و الگوی آن‌ها، شکل اول و پنجم را رسم کنید.



۲ علی برای خرید یک کیف، چهار اسکناس  $۲۰۰۰۰$  ریالی به فروشنده داد. فروشنده یک اسکناس  $۱۰۰۰۰$  ریالی و یک اسکناس  $۵۰۰۰$  ریالی به او پس داد. قیمت کیف چند تومان است؟

۳ با توجه به الگوی مقابل، شکل دهم چند مربع دارد؟ رابطه‌ی الگو را بنویسید.



۴ کوچک‌ترین عدد شش رقمی با رقم‌های  $۸, ۱, ۲, ۰, ۶, ۴$  را با رقم و حروف بنویسید.

۵ عددها را با یکدیگر مقایسه کنید.

$۴۵۶۷۸۳۹$    $۴۳۵۶۷۸۰$        $۴۳۵۸۷$    $۴۳۵۷۸$        $۷۶۵۴۳$    $۱۲۳۸۷۹$

۶ تساوی‌های زیر را کامل کنید.

$$۷۰۰۰۰۰ + ۳۰۰۰۰ + ۹۰۰۰ + ۸۰۰ + ۴۰ + ۵ = \dots\dots\dots$$

$$۸۳۰۱۳۲ = \dots\dots\dots + \dots\dots\dots + \dots\dots\dots + \dots\dots\dots + \dots\dots\dots$$

ارزیابی والدین

نقاط قوت:

نویسه‌ها: