

به نام خدا

نام:

نام خانوادگی:

کلاس:

نام مرکز:

فارسی ششم دبستان

صفحات: تا آخر درس ۲

نادرست	درست
<input type="checkbox"/>	<input type="checkbox"/>
<input type="checkbox"/>	<input type="checkbox"/>
<input type="checkbox"/>	<input type="checkbox"/>
<input type="checkbox"/>	<input type="checkbox"/>



الف) جمله‌های درست یا نادرست را با علامت ✓ مشخص کنید.

۱) معنای کلمه‌ی «مرغزار»، چمن‌زار است.

۲) کتاب «گلشن‌راز» اثر شیخ محمود شبستری است.

۳) در جمله‌ی «انسان باید خالق خود را بشناسد»، «خالق فعل» است.

۴) «خیز و غنیمت شمار» جمله‌ی پرسشی است.

ب) هر کلمه را به معنی آن وصل کنید.

• کار

• خلق

• ناتوان

• خالق

• آفریده

• زار

• آفریدگار

• پیشه



ج) پاسخ درست را با علامت ✓ مشخص کنید.

۱) کدام کلمه، جمع است؟

د) درختان

ج) موزون

ب) ورق

الف) آفریدگار

۲) با توجه به معنی کلمه‌ها، املاي کدام گزینه درست است؟

ب) موزون: هماهنگ

الف) فاخطه: کوکو

د) ریه: بهار

ج) مرغ: چمن

۳) در مصراع «می‌ریختم تمام جهان را به پای تو»، «تو» به چه کسی اشاره دارد؟

د) جهان

ج) آموزگار

ب) مادر

الف) پروردگار

۴) کدام کلمه با بقیه هم خانواده نیست؟

د) مشهد

ج) شهادت

ب) شهید

الف) هشدار



د) جاهای خالی را با کلمه‌های مناسب کامل کنید.



۱ در جمله‌ی «باد بهاری وزید از طرف مرغزار»، نهاد است.

۲ شاعر شعر «ای مادر عزیز»، است.

۳ حروف مشترک کلمه‌های «تحصیل» و «حاصل»، است.

۴ برون نمی‌رود از سینه‌ام که هست *** این خانه‌ی تو و این دل، سرای تو

ه) به پرسش‌های زیر، پاسخ دهید.

۱ مخالف کلمه‌های زیر را بنویسید.

..... ≠ فروغ

..... ≠ پسندیده

۲ کلمه‌هایی را که از نظر املايي درست نیستند پیدا کنید و صحیح آن‌ها را بنویسید.

اندیشه کردن اندر کار خالق و مخلوق، روشنایی افزاید اندر دل و قفلت از این و ناندیشیدن تاریکی و گمراهی است.

۳ نویسنده‌ی کتاب «تاریخ بلعمی» کیست؟

۴ منظور شاعر از بیت: «برگ درختان سبز در نظر هوشیار *** هر ورقش دفتری است معرفت کردگار» چیست؟

۵ ضرب‌المثل «از تو حرکت،» را کامل کنید و درباره‌ی آن یک بند بنویسید.

.....

.....

.....

۶ در جاهای خالی از علایم نگارشی مناسب استفاده کنید.

هدهد گفت درست است من با همه‌ی زیرکی و هوشیاری باز هم اشتباه کردم

بازخورد آموزگار

نقاط قوت: _____

نویسه‌ها: _____

هدیه‌های آسمان ششم دبستان

نام:
 نام خانوادگی:
 کلاس:
 نام مرکز:

صفحات: تا آخر درس ۲

نادرست	درست
<input type="checkbox"/>	<input type="checkbox"/>
<input type="checkbox"/>	<input type="checkbox"/>
<input type="checkbox"/>	<input type="checkbox"/>
<input type="checkbox"/>	<input type="checkbox"/>



(الف) جمله‌های درست یا نادرست را با علامت ✓ مشخص کنید.

۱ خداوند از هر کس به ما نزدیک‌تر است.

۲ در سوره‌ی توحید به صفت بی‌نیازی خداوند اشاره شده است.

۳ خورشید در چاه داستان زندگی حضرت اسماعیل (ع) است.

۴ پیامبران یار مظلومان و ظالمان بودند.

(ب) با توجه به سوره‌ی توحید، آیات را به شماره‌ی آن وصل کنید.

• الله الصَّمَد

• وَ لَمْ يَكُنْ لَهُ كُفُوًا أَحَدٌ

• قُلْ هُوَ اللهُ أَحَدٌ

• لَمْ يَلِدْ وَ لَمْ يُولَدْ

• ۱

• ۴

• ۲

• ۳



(ج) پاسخ درست را با علامت ✓ مشخص کنید.

۱ معنای کلمه‌ی «سترگ» کدام است؟

(الف) بی‌نیاز (ب) بخشش (ج) بدی (د) بزرگ

۲ بادهای باران‌زا نشان دهنده‌ی کدام یک از صفات خداوند است؟

(الف) دانایی (ب) توانایی (ج) یکتایی (د) رحمت آسمانی

۳ حضرت یعقوب (ع) پس از مشاهده‌ی پیراهن خونین فرزندش از خداوند چه درخواست کرد؟

(الف) بخشش (ب) آرامش (ج) صبر (د) بازگشت فرزندش

۴ کدام یک از پیامبران اولوالعزم نیست؟

(الف) حضرت هود (ع) (ب) حضرت نوح (ع)

(ج) حضرت عیسی (ع) (د) حضرت موسی (ع)



د) جاهای خالی را با کلمه‌های مناسب کامل کنید.

۱ دلایلی روشن بود تا نشان دهد پیامبران از سوی خدا فرستاده شده‌اند.



۲ اولین پیامبر خدا بود.

۳ یعنی خدا یکتاست و جز او خدایی نیست.

۴ پیامبر از سوی، انتخاب شده است.

ه) به پرسش‌های زیر، پاسخ دهید.

۱ معجزه چیست؟



۲ بیت: «تو خدای بی نظیری *** تو یگانه‌ای و دانا» به کدام یک از اصول دینی ما مسلمانان

اشاره می‌کند؟

۳ معنای آیه زیر را بنویسید.

إِذْ بَعَثَ فِيهِمْ رَسُولًا مِّنْ أَنفُسِهِمْ

۴ نبوت یعنی چه؟

۵ نام سه کتاب آسمانی پیامبران را بنویسید.

خودسنجی

نقاط قوت:

توصیه‌ها:

به نام خدا

نام:

نام خانوادگی:

کلاس:

نام مرکز:

مطالعات اجتماعی ششم دبستان

صفحات: تا آخر درس ۴

نادرست	درست
<input type="checkbox"/>	<input type="checkbox"/>
<input type="checkbox"/>	<input type="checkbox"/>
<input type="checkbox"/>	<input type="checkbox"/>
<input type="checkbox"/>	<input type="checkbox"/>



الف) جمله‌های درست یا نادرست را با علامت ✓ مشخص کنید.

۱ از موضوعات مهم در روابط دوستی، انتخاب دوست است.

۲ انسان، موجودی اجتماعی است و می‌تواند تنها زندگی کند.

۳ در آخرین مرحله‌ی تصمیم‌گیری، بهترین راه را انتخاب می‌کنیم.

۴ احترام در برخورد و پرهیز از شوخی بیش از حد، یکی از راه‌های حفظ دوستی است.

ب) عبارت‌های ستون (ا) را به گوینده‌ی آن در ستون ۲ متصل کنید.

ستون ۱

• با نیکان هم‌دلی و رفاقت کن تا از آنان باشی.

• همنشین تو از تو به باید

• بدترین افراد، کسانی هستند که میان مردم سخن‌چینی

• می‌کنند و بین دوستان جدایی می‌اندازند.

ستون ۲

• حضرت محمد (ص)

• حضرت علی (ع)

• سعدی

ج) پاسخ درست را با علامت ✓ مشخص کنید.

۱ کدام مورد، تعریف کوتاهی از واژه‌ی «تصمیم» است؟

• (ب) ریاست کردن

• الف) مشورت کردن

• (د) انتخاب شدن

• (ج) انتخاب کردن

۲ وقتی کسی از شما چیزی یا کاری خواست که به نظر تان نادرست است، باید ...

• الف) با دوستان دیگرمان مشورت کنیم. • (ب) فقط یک بار به آن حرف یا کار عمل کنیم.

• (ج) قاطعانه و محکم «نه» بگوییم. • (د) بدون فکر کردن قبول کنیم.

۳ از روی چه چیزی می‌فهمیم که تصمیم درستی گرفته‌ایم؟

• الف) پیش‌بینی • (ب) آثار و نتایج • (ج) هدف • (د) هم‌فکری

۴ اولین کار در هنگام تصمیم‌گیری چیست؟





• الف) انتخاب بهترین راه • (ب) پیش‌بینی کردن و جمع‌آوری اطلاعات

• (ج) بررسی راه‌حل‌ها • (د) خوب فکر کردن و جمع‌آوری اطلاعات

صفحات: تا آخر درس ۲

نادرست	درست
<input type="checkbox"/>	<input type="checkbox"/>
<input type="checkbox"/>	<input type="checkbox"/>
<input type="checkbox"/>	<input type="checkbox"/>
<input type="checkbox"/>	<input type="checkbox"/>

الف) جمله‌های درست یا نادرست را با علامت ✓ مشخص کنید.

- ۱ مقاومت کیسه‌های نایلونی بازیافتی از کیسه‌های نایلونی تهیه شده از مواد اصلی کم‌تر است. 
- ۲ آب‌اکسیژنه را باید در مقابل نور و گرما نگهداری کرد. 
- ۳ سنگ، پشم، پوست و شیشه مواد طبیعی هستند. 
- ۴ اگر شهاب‌سنگ در اقیانوس سقوط کند، گودالی ایجاد نمی‌شود. 

ب) هر ماده را به تأثیر آن در خمیر کاغذ وصل کنید.



- ضد آب کردن کاغذ
- مات کردن کاغذ
- افزایش استحکام کاغذ و صاف کردن
- از بین بردن رنگ خمیر کاغذ
- آب‌اکسیژنه
- نشاسته
- گچ
- پلاستیک

ج) پاسخ درست را با علامت ✓ مشخص کنید.

۱ وقتی به سؤالی که بر ایمان پیش آمده پاسخ یا پاسخ‌های احتمالی دهیم، در واقع داده‌ایم. 

- الف) مشاهده  ب) نظریه  ج) فرضیه  د) نتیجه‌گیری 

۲ کدام روش ثبت و نگهداری اطلاعات، قدیمی‌تر است؟ 

- الف) نقاشی روی دیوارها  ب) نقاشی روی چرم 
- ج) کاغذ پاپروس  د) روی کاغذ ساخته شده از خمیر چوب 

۳ کدام گزینه، متفاوت است؟ 

- الف) آب‌اکسیژنه  ب) آب ژاول  ج) پتاسیم پرمنگنات  د) کلر 

۴ کدام گزینه، ماده‌ای مصنوعی است؟ 

- الف) نفت خام  ب) گوشواره  ج) طلا  د) نمک دریا 

د) جاهای خالی را با کلمه‌های مناسب کامل کنید.



۱ ماده‌ی اصلی و خام موردنیاز ساخت کاغذ، _____ است.

۲ با افزودن _____ می‌توان انواع مختلفی از کاغذها را تهیه کرد.

۳ بیش‌تر مواد و وسایلی که امروزه از آنها استفاده می‌کنیم، _____ هستند.

۴ هر چه سطح فر فره کم‌تر باشد، _____ به زمین می‌رسد.

ه) به سؤال‌های زیر پاسخ دهید.



۱ چرا انسان به فکر روش‌های جدید برای ثبت و ذخیره‌ی اطلاعات افتاد؟

۲ کاربردهای مختلف کاغذ در زندگی روزمره را بنویسید. (۴ مورد)

۳ مراحل تولید کاغذ را نام ببرید.

۴ بازیافت کاغذ چه مزایایی دارد؟

۵ برای جلوگیری یا کاهش اثرات قطع بی‌رویه‌ی درختان و تخریب جنگل‌ها چه راه‌هایی پیشنهاد می‌کنید؟

۶ دو نمونه از نکات ایمنی که هنگام استفاده از آب‌اکسیژنه باید رعایت کرد را بنویسید.

ارزیابی والدین

نقاط قوت: _____

نیاز به تلاش بیش‌تر: _____

توصیه‌ها: _____

به نام خدا

نام:

نام خانوادگی:

کلاس:

نام مرکز:

ریاضی ششم دبستان

صفحات: فصل ۱

ندارست	درست
<input type="checkbox"/>	<input type="checkbox"/>
<input type="checkbox"/>	<input type="checkbox"/>
<input type="checkbox"/>	<input type="checkbox"/>
<input type="checkbox"/>	<input type="checkbox"/>



الف) جمله‌های درست یا نادرست را با علامت ✓ مشخص کن.

۱) حاصل جمع یک عدد زوج با عدد فرد، عددی زوج است.



۲) عدد ۱۵ می‌تواند مضرب اعداد ۳ و ۵ باشد.



۳) عدد ۵۵۲ هم بر ۵ و هم بر ۳ بخش‌پذیر است.



۴) چهلمین عدد زوج، عدد ۸۰ است.



ب) با توجه به الگوی اعداد فرد، هر عدد را به شماره‌ی آن در الگوی اعداد فرد وصل کنید.

شماره در الگوی اعداد فرد

عدد فرد



- عدد صدم
- عدد ششم
- عدد دهم
- عدد چهارم

- ۱۹
- ۷
- ۱۱
- ۱۹۹


ج) پاسخ درست را با علامت ✓ مشخص کنید.

۱) بیش‌ترین عدد صحیح منفی کدام است؟



الف) ۱۰۰- (ب) ۳- (ج) ۱- (د) ۱۰-

۲) در الگوی مقابل، شکل پنجم از چند مربع درست شده است؟



الف) ۲۰ (ب) ۲۱ (ج) ۱۶ (د) ۱۷

۳) کدام عدد بر ۳ بخش‌پذیر نیست؟



الف) ۵۷ (ب) ۶۳ (ج) ۲۲۲ (د) ۹۱۶

۴) در عدد $۵۶۹۴۳۸/۲۵۰$ رقم مرتبه‌ی هزارم کدام است؟

الف) ۹ (ب) ۸ (ج) ۰ (د) ۳

د) جاهای خالی را با عدد یا کلمه‌های مناسب کامل کنید.

۱) به عددهای «۳، ۶، ۹، ۱۲، ...» می‌گویند.



۲) کوچک‌ترین عدد شش رقمی زوج بدون رقم‌های تکراری، عدد _____ است.



۳) رقم یکان اعداد زوج، همیشه یکی از رقم‌های _____ است.



۴) عددی بر ۵ بخش‌پذیر است که _____



