

پیک آدینو سوم دبستان



۱ با توجه به شعر ستایش، ابیات زیر را کامل کن.

خداوند رنگ رنگ خداوند قشنگ

خدایی که و آفرید. و گل و را آفرید.

۲ برای هر کلمه یک هم خانواده بنویس.

نظم: نظر: درس: نظم:

۳ اشتباهات املايي متن زیر را اصلاح کن.

امید به بازارچه رسید که در آن تعداد زیادی مغازه و دوکان قرار داشت. بعضی از آنها مواد قضایی داشتند. یک غنّادی بزرگ هم در بازارچه بود. از بازارچه که گزشت به میدان عسلی شهر رسید.

۴ هر یک از کلمه‌های داده شده را با «ات»، «ان» و «ها» جمع ببند.

لحظه: محله:

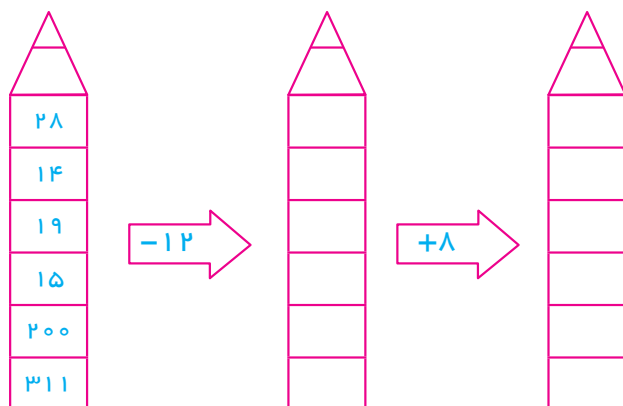
شهر: موجود:

۵ کلمه‌های زیر را با «ت - ط» کامل کن.

خا... را *** ا... راف *** ** ... ازه



با توجه به فلش‌ها، پاسخ‌ها را پیدا کن و بنویس.




۲ لایلا می‌خواهد ۱۵ شاخه گل را در دسته‌های مساوی، برای تزیین میز، روی آن قرار دهد. او می‌تواند گل‌ها را در دسته‌های چندتایی قرار دهد؟ (چند پیشنهاد می‌دهی؟)

۳ لوازم‌التحریر فروشی یک مداد را ۶۰۰ ریال می‌خرد و ۷۰۰ ریال می‌فروشد. اگر فروشنده از فروش هر مداد ۱۰۰ ریال سود ببرد:

الف) باید چند مداد بفروشد تا با سود آن، یک مداد دیگر بخرد؟
ب) چند مداد بفروشد تا ۵۰۰ ریال سود کند؟

۴ مربع‌های مثل هم را بشمار و به عدد و حروف بنویس.



۵ با توجہ به الگوی بین اعداد، سه عدد بعدی را بنویس.

..... و و و ۱۲ و ۷ و ۱

..... و و و ۲۰۰ و ۱۵۰ و ۱۰۰

..... و و و ۷ و ۹ و ۴ و ۶ و ۱

۶ سعید هر روز ۵ صفحه از کتاب داستان را می خواند. او در یک هفته چند صفحه از کتابش را می خواند؟



پیک آدینو سوم دبستان



۱ جاهای خالی را با حرف مناسب پر کن. (ص - ظ - ط)

.....ورتی * لحه * عمتی * عرف * خا.....رات

۲ در جاهای خالی، کلمه‌های مناسب بنویس.

در مسجد می خوانند.

نام نویسی همان است.

نام دیگر مغازه است:

بازارچه، محلی برای خرید در هر

۳ مخالف کلمات زیر را بنویس.

..... انتها ≠

..... دوست ≠

..... شروع ≠

..... تازه ≠

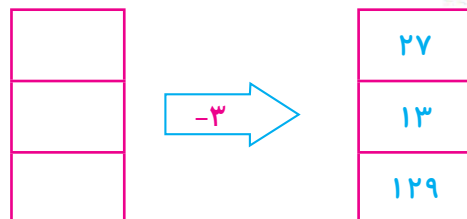
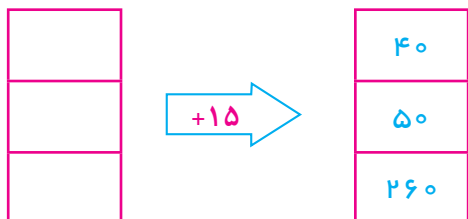
..... قبلی ≠

۴ جمع کلمات مفرد زیر را بنویس.

..... خاطره: بچه: محله: دوست: حس:



۱ با توجه به خروجی و کار ماشین، عددهای ورودی را بنویس.



۲ امروز یکشنبه و اولین روز ماه است. تا آخر این ماه، یکشنبه‌ها چه روزهایی از یک ماه هستند؟

۳ ناهید و نوشین هر کدام ۷۰۰ تومان پول دارند. اگر ناهید ۳ بار و هر بار ۱۵۰ تومان و نوشین ۲ بار و هر بار ۲۰۰ تومان از پول خود را خرج کنند، اختلاف باقی‌مانده‌ی پول آن‌ها چه قدر است؟

۴ قیمت هر مداد ۱۲۰ تومان و قیمت یک دفتر ۲۵۰ تومان است. برای خریدن یک دفتر و ۴ مداد چه قدر باید بپردازیم؟

۵ در الگوی مقابل، عدد بعدی کدام است؟

الف) ۲۳۰ ب) ۲۱۰ ج) ۲۰۰ د) ۱۹۰

۶ خروجی کدام یک از ماشین‌های گزینه‌ها با خروجی ماشین روبه‌رو برابر است؟

الف) $\square \xrightarrow{+2} \square$ ب) $\square \xrightarrow{+3} \square$ ج) $\square \xrightarrow{+1} \square \xrightarrow{-6} \square$ د) $\square \xrightarrow{+2} \square \xrightarrow{-7} \square$



۱ چرا بدن ما به غذای سالم و مناسب نیاز دارد؟

۲ بشقاب سلامت به ما نشان می‌دهد که از گروه و بیش تر و از گروه کم تر استفاده کنیم.

۳ تو در برنامه‌ی غذایی خود، از کدام گروه مواد غذایی بیش تر استفاده می‌کنی؟

۴ به نظر تو، یک پژوهشگر چه کارهایی را برای جمع‌آوری اطلاعات انجام می‌دهد؟