



$$+3 +5$$

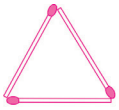
(الف) ۱، ۴، ۹، ۱۶، .....، .....، .....

(ب) ۱، ۳، ۶، ۱۰، .....، .....، .....

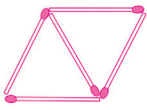
(ج) ۱، ۶، ۱۱، ۱۶، .....، .....، .....

۱ الگوها را ادامه دهید.

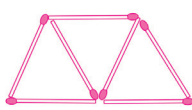
۲ با توجه به الگویی که در شکل وجود دارد؛ شکل پنجم از چند چوب کبریت درست می‌شود؟



شکل ۱



شکل ۲



شکل ۳

؟

شکل (۵)

۳ مضرب‌های اعداد داده شده را بنویسید.

۷ → ۷، ۱۴، .....، .....، .....

۴ → ۱۲، .....، .....، .....

۹ → ۴۵، .....، .....، .....

۴ آوین در یک صف ۳۷ نفره‌ی مدرسه، نفر وسط است. چند نفر در هر طرف آوین قرار دارند؟

۵ به سؤال‌های زیر پاسخ دهید.

(الف) ۳۸ چندمین مضرب ۲ است؟

(ب) ۵ چندمین مضرب ۵ است؟

(ج) اولین مضرب عدد ۳ چند است؟

## پیک آدینو ششم دبستان



۱ با کلمه‌ی «مادر» چهارنوع جمله‌ی خبری، پرسشی، امری و عاطفی بنویسید و در پایان هر جمله، نشانه‌ی نگارشی قرار دهید. (؟ - . - !)

الف) .....

ب) .....

ج) .....

د) .....

۲ در بیت زیر، فعل‌ها را پیدا کنید و زیر آن‌ها خط بکشید.

هر گل و برگ‌ی که هست، یاد خدا می‌کند      بلبل و قمری چه خواند؟ یاد خداوندگار

۳ بیت زیر را به صورت ساده بنویسید.

خیز و غنیمت شمار جنبش باد ربیع      ناله‌ی موزون مرغ، بوی خوش لاله‌زار

۴ منظور از بیت «برگ درختان سبز در نظر هوشیار      هر ورقش دفتری‌ست معرفت کردگار، چیست؟»



۱ چه عواملی در عمق و قطر گودال ایجاد شده توسط شهاب سنگ مؤثر است؟

## پیک آدینو ششم دبستان

۲ الف) در گذشته، نیاکان ما آثار علمی، فرهنگی، هنری و اجتماعی خود را روی چه چیزهایی می‌نوشتند؟

ب) چرا انسان به فکر روش‌های جدید برای ثبت اطلاعات افتاد؟

۳ مواد طبیعی چه نوع موادی هستند؟ ۲ مورد نام ببرید.

۴ در جاهای خالی، کلمه‌های مناسب بنویسید.

الف) ..... یکی از مواد مصنوعی است که کاربرد بسیار گسترده‌ای در زندگی ما دارد.

ب) در حدود ..... پس از میلاد مسیح، مسلمانان در سرزمینی به نام ..... به دانش کاغذ دست یافتند.

ج) ماده‌ی اصلی و خام مورد نیاز برای ساخت کاغذ، ..... است.



الف) گزینه‌ی درست را با علامت x مشخص کنید.

۱ صحبت کردن با کدام یک از دوستان زیر باعث می‌شود که ما احساس «سبکی و آرامش» کنیم؟

الف) دوستان با محبت  ب) دوستان عاقل و صبور

ج) دوستان اهل تجربه  د) دوستان حساس

۲ به فرموده‌ی امام علی (ع): با ..... همدلی کن تا از آنان باشی و از ..... جدا شو تا از آنان نباشی.

الف) نیکان - نادانان  ب) نیکان - بدان

ج) عاقلان - سخن‌چینان  د) عاقلان - دروغگویان

۳ پیشوایان بزرگ دینی به ما توصیه می‌کنند با چه افرادی دوستی کنیم؟

الف) نیکوکار  ب) بخیل  ج) سخن‌چین  د) دروغگو

## پیک آدینو ششم دبستان

پ) در جاهای خالی، کلمه‌های مناسب بنویسید.

۱) انسان موجودی ..... است و نمی‌تواند تنها زندگی کند.

۲) هرکس ادب ندارد، ..... هم ندارد.

۳) یکی از موضوعات مهم در روابط دوستی ..... است.

چ) جمله‌های درست را (پا) و جمله‌های نادرست را (پا) مشخص کنید.

نادرست	درست

۱) خداوند در سرشت ما انسان‌ها میل به محبت کردن و نیاز به برقراری ارتباط با دیگران قرار داده است.

۲) دوستان نمی‌توانند ما را در مشکلات یاری کنند.

۳) به فرموده‌ی پیامبر (ص)، بدترین افراد کسانی هستند که بین دوستان جدایی می‌اندازند.

۴) تنهایی برای انسان‌ها احساس ناخوشایندی است.

برای شروع یک دوستی خوب چه پیشنهادی دارید؟



۱) الحمد لله رب العالمین، یعنی چه؟ این که چه معانی را برای شکرگزاری از خداوند به کار گیریم. (با توجه به متن درس، چهار مورد بنویسید.)

۲) جاهای خالی را کامل کنید.

الف) الله الصمد یعنی خدا ..... است.

ب) توحید یعنی خداوند ..... است و جز او ..... نیست.

ج) تو را سپاس می‌گویم که عطاهایت از سر مهربانی و نعمت‌هایت ..... است.

۳) با دیدن چه چیزهایی به دانایی و توانایی خداوند پی می‌بریم؟



۱) عددهای زیر را با رقم بنویسید.

چهارصد و هشتاد میلیارد و صد و هشت میلیون و دویست و ده .....

نود میلیارد و هفتصد و پنج میلیون و سیصد و نود و نه هزار .....

صد و چهل و هشت عدد صحیح و دو دهم .....



۲) هر یک از اعداد زیر را با حروف بنویسید و گسترده‌ی هر کدام را به دست آورید.

$3006529011 = \dots\dots\dots$

$296/17 = \dots\dots\dots$

۳) الف) اگر عدد ۶۹۲۳۵۱ را در ۱۰۰۰ ضرب کنیم، ارزش مکانی رقم ۳ چه تغییری می‌کند؟

ب) رقم صدگان میلیون آن چند است؟



$$\begin{array}{cccccccc}
 \downarrow & \downarrow & & & & & \downarrow & \\
 4 & 9 & 3 & 3 & 3 & 7 & 6 & 9 & 2 & 3
 \end{array}$$

۴) الف) ارزش مکانی هر رقم را بنویسید.

ب) ارزش مکانی بزرگ‌ترین رقم چیست؟



۵) جاهای خالی را کامل کنید.

الف) بزرگ‌ترین عددی را بنویسید که طبقه‌ی میلیون آن ۷۹ باشد. (بدون تکرار رقم)

ب) کوچک‌ترین عدد فرد چهار رقمی (بدون تکرار): .....

ج) عددی هشت رقمی بنویسید که رقم صدگان هزار آن ۳، رقم یکان میلیون آن ۵، رقم دهگان میلیون آن

دو برابر رقم صدگان هزار آن باشد و بقیه‌ی ارقام آن ۰ باشد.

## پیک آدینو ششم دبستان

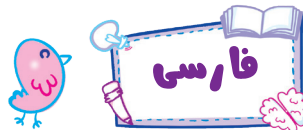
۶ عدد‌های زیر را از کوچک به بزرگ مرتب کنید.

۶۰۹۵۰۲۱۶۴۳۷۵ ، ۶۰۰۸۲۲۴۳۳۱۴ ، ۶۰۹۱۰۲۶۳۴۷۵

..... < ..... < .....

۷ ابتدا محل تقریبی عدد داده شده را روی محور مشخص کنید، سپس برای نقطه‌های نشان داده شده، یک عدد به صورت تقریبی بنویسید.

۴۵۳۸۴۱۰۰۰۲۱۰



۱ نوع جمله‌های زیر را بنویسید.

..... لطفاً کتاب مرا بدهید.

..... بالای درخت، چه چیزی می‌بینی؟

..... پاییز واقعاً زیباست!

..... برگ همه‌ی درختان زرد شده است.


۲ پایان هر مصرع را کامل کنید.

.....

بلبل و قمری چه خواند؟

.....

هر ورقش دفتری است،



الف) گزینه‌ی درست را با علامت x مشخص کنید.

۱ کدام نوشته، مربوط به آثار علمی و فرهنگی نیاکان و اجداد ما در هزاران سال پیش نیست؟

(ب) نسخه‌های خطی قرآن روی پارچه

الف) نوشته‌های روی پوست حیوانات

(د) نسخه‌های خطی کاغذ

(ج) نوشته‌های روی چوب درختان

۲ کدام یک از مواد زیر طبیعی است؟

(د) لاستیک

(ج) قرص

(ب) پلاستیک

الف) سنگ

## پیک آدینو ششم دبستان

ب) با کلمه‌های مناسب، جمله‌ها را کامل کنید.

۱ کاغذ، یک ماده‌ی ..... است.

۲ بیش‌تر مواد و وسایلی که امروزه از آن‌ها استفاده می‌کنیم، به‌طور طبیعی یافت نمی‌شود، به این مواد،

مواد ..... می‌گویند.

۳ تبدیل چپس چوب به خمیر، یک تغییر ..... است.

ج) پاسخ دهید.

۱ غیر از چوب، از چه مواد دیگری برای تهیه کاغذ می‌توان استفاده کرد؟

۲ مراحل تولید کاغذ را شماره‌گذاری کنید.

○ تبدیل به تکه‌های ریز چوب

○ حمل الوار به کارخانه

○ تبدیل چپس چوب به خمیر و از بین بردن رنگ آن

○ خشک کردن خمیر و تهیه کاغذ

○ بریدن درخت

○ کندن پوست درخت



۱ خداوند در سرشت (نهاد) ما چه چیزهایی قرار داده است؟ نام ببرید.

۲ این بیت شعر، به چه موضوعی اشاره دارد؟

من آن‌گه بگویم که تو کیستی

تو اول بگو با کیان زیستی

۳ عبارت ستون «الف» را به تعاریف ستون «ب» متصل کنید:

(ب)

(الف)

\* آرامش روحی افراد را بر هم می‌زند.

\* گفتن «نه»

\* رفتار ما درمقابل درخواست نابه‌جا است.

\* دوستی افراطی

## پیک آدینو ششم دبستان

۴ پیشوایان بزرگ دینی ما توصیه کردند که از دوستی با چه افرادی خودداری کنیم؟

۵ در جاهای خالی، کلمه‌ی مناسب بنویسید.

الف) ..... برای انسان‌ها احساس ناخوشایندی است.

ب) ..... یعنی این که ما با دوستانمان چه رفتارهایی داشته باشیم تا دوستی ادامه پیدا کند.

۶ حضرت علی (ع) در نامه‌ی خود به فرزندشان امام حسن (ع)، درباره‌ی دوست چه فرمودند؟



۱ چرا فقط از خداوند یاری می‌طلبیم و به او تکیه می‌کنیم؟

۲ اصل توحید یعنی چه؟

۳ بهترین راهنمایان ما چه کسانی هستند؟

۴ پیامبر چه کسی است؟

۵ پیامبران به چه کارهایی مشغول بودند؟

۶ آیا می‌توانید چند کتاب آسمانی از پیامبران نام ببرید؟