



۱ با کمک شکل، الگوی بین اعداد را کشف کنید و بگویید که شکل ششم چه عددی را نشان می‌دهد؟

۱ ۲ ۴ ۸


۲ الف) چه رابطه‌ای بین شکل‌های زیر وجود دارد؟ الگوی آن را بنویسید.



(۱)



(۲)



(۳)

ب) شکل‌های شماره‌ی ۴، ۵ و ۶ هر یک چند مربع می‌شود؟ به کمک جدول نشان دهید.

شماره‌ی شکل	۱	۲	۳			
تعداد مربع‌ها	۴	۸	۱۲			

۳ با توجه به رابطه‌ی بین عددهای هر الگو در جاهای خالی، عدد مناسب قرار دهید.

۲، ۵، ۹، ۱۴، ۲۰،

۱، ۴، ۹، ۱۶،

۴۷، ۴۰، ۳۴، ۲۹،

۴ به حروف و عدد بنویسید.

۳۰۵۶۴.....

..... چهل و هفت هزار و ششصد و یک

۲۵۰۹۰.....

۵ با رسم شکل، الگوی عددی زیر را به الگوی هندسی تبدیل کرده و عددهای بعدی را پیدا کنید.

۱۱۰، ۲۲۰، ۳۳۰،،،،



۱ شاعر شعر «خدا» کیست؟

- الف) پروین اعتصامی ب) پروین دولت آبادی ج) ناصر کشاورز د) شکوه قاسم‌نیا

۲ جاهای خالی را با واژه‌های درست کامل کنید. (با توجه به شعر خدا)

- الف) نماز را شنیدم.
ب) تو را دیدم را ندیدم.
ج) خدا در و بوی گل است.

۳ با حروف درهم‌ریخته‌ی زیر کلمه بسازید، سپس با هر یک از کلمات جمله بنویسید.

- خ م ض ی: ر م ت ع ف: و ص ر ت ی:

۴ جهان‌افروز، ویژگی کدام واژه است؟

- الف) دشت ب) جنگل ج) دریا د) خورشید

۵ معنی بیت زیر را بنویسید.

- برگ درختان سبز در نظر هوشیار
هر ورقش دفتری است معرفت کردگار



۱ مراحل روش علمی را به ترتیب بنویسید.

۲ دانشمندان برای اثبات درستی و یا نادرستی پیش‌بینی‌های خود چه می‌کنند؟

پیک آدینو چهارم دبستان

نادرست	درست

۳ جملات درست و نادرست را مشخص کنید.

الف) آزمایش کردن همیشه با پرسش‌هایی شروع می‌شود.

ب) فرضیه‌ها همیشه درست هستند.

ج) لباس‌های تیره مناسب فصل زمستان هستند.

د) یک آزمایش خوب و دقیق باید چند بار تکرار شود تا نتیجه‌ی آن قابل اعتماد باشد.



نادرست	درست

۱ جاهای خالی را با کلمات مناسب پر کنید.

الف) خانه‌ی ما در از یک شهر یا روستا قرار گرفته است.

ب) برای زندگی در محله وجود دارد.

ج) را در جای مخصوص بگذاریم تا محل زندگی ما آلوده نشود.

۲ جملات درست و نادرست را مشخص کنید.

الف) باخبر بودن از حال همسایه‌ها دخالت در زندگی آن‌ها است.

ب) زندگی در محله با خانه و مدرسه متفاوت است و در آن قوانین و مقررات خاصی وجود ندارد.

ج) خانه، حریم خصوصی افراد است و آن‌ها می‌توانند صدای تلویزیون را به دلخواه بلند کنند.

د) در روستاها هم، محله وجود دارد.

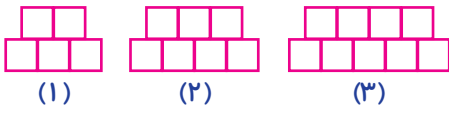
۳ جمله‌ی زیر از کیست؟ آن را کامل کنید.

اگر می‌خواهید خدا و پیامبر شما را دوست داشته باشند و باشید و با خود به نیکی رفتار کنید.

۴ برای مهربانی به همسایه‌ها چه می‌توان کرد؟



۱ با توجه به الگوی شکل‌های زیر، شکل ششم از چند مربع تشکیل شده است؟



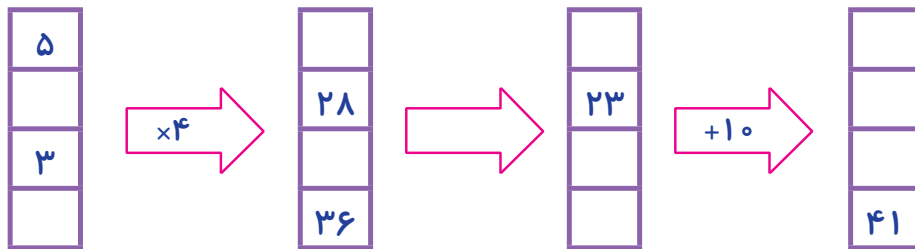
(۱)

(۲)

(۳)

(۶)؟

۲ ماشین ورودی و خروجی زیر را کامل کنید.



۳ علی ۱۲ سال دارد. سن پدر علی از ۴ برابر سن او ۵ سال بیش‌تر است. پدر علی چند سال دارد؟

۴ کوچک‌ترین عدد ۶ رقمی زوج را بدون تکرار ارقام بنویسید.

۵ جدول زیر را کامل کنید.

طول ضلع مربع	۴	۶	۹		
محیط مربع			۳۶	۲۰	۳۲



۱ املای کدام واژه با توجه به معنی آن درست است؟

(ب) غشر: لایه

(الف) معرفت: شناخت

(د) قوک: قورباغه

(ج) سنوبر: نام درختی همیشه سبز

پیک آدینو چهارم دبستان

۲ با توجه به متن درس «آفریدگار زیبایی» زمستان بر تن کوه‌ها و دشت‌ها لباس سفید پوشانید. به چه معناست؟

۳ برای هر واژه جمع بنویسید.

درخت: حشره: پرنده: مزرعه: منظره:

۴ چهار غلط املائی در متن زیر وجود دارد. لطفاً آن‌ها را اصلاح کنید.

ای نقاشان چیردست! شما اسر شگفت‌انگیز خود را به وجود آوردید، بگزارید مردم از نقاشی‌های شما لذت ببرند.

۵ مصراع‌های زیر به ترتیب، با کدام واژه‌ها کامل می‌شوند؟ (با توجه به شعر خبر داغ)

- | | |
|---|---|
| دل هر تپید | رنگ پرید |
| برگ شد | خمیازه کشید |
| <input type="checkbox"/> الف) سبزه، غنچه، بی‌حوصله، برگ | <input type="checkbox"/> ب) غنچه، گلبرگ، بی‌حوصله، سبزه |
| <input type="checkbox"/> ج) برگ، گلبرگ، سبزه، سار | <input type="checkbox"/> د) برگ، غنچه، بی‌حوصله، سبزه |

۶ برای موضوع زیر، یک بند بنویسید.

موضوع کلی: دوست

موضوع کوچک‌تر:



۱ جملات درست و نادرست را مشخص کنید.

الف) در یک مخلوط، هر ماده تمام خاصیت‌های خود را حفظ می‌کند.

ب) مخلوط‌های یکنواخت را به راحتی می‌توان جدا کرد.

ج) به مخلوط یکنواخت محلول می‌گویند.

د) مخلوط‌های یکنواخت معمولاً شفاف هستند.

درست	نادرست

۲ محلول آب و گلاب شبیه کدامیک از محلول‌های زیر است؟

- الف) چای شیرین ب) آب دریا ج) جوهر و آب د) هوا

۳) گرما بر سرعت حل شدن شکر در آب چه تأثیری دارد؟ به آن سرعت می‌دهد یا خیر؟ چرا؟

۴) چرا به آب نمک محلول و به آب روغن مخلوط می‌گویند؟ توضیح دهید.



الف) جاهای خالی را با کلمات مناسب از متن درس پر کنید.

- ۱- در بیش‌تر محله‌ها وجود دارد که مردم برای استراحت و ورزش به آن‌جا می‌روند.
- ۲- محل برگزاری جشن‌های مربوط به عیدهای مذهبی است.
- ۳- مردم در مسجد پشت در صف‌های منظم و رو به می‌ایستند.

ب) کدام جمله نادرست است؟ ✓ بزنید.

- ۱- همسایه‌ها بهتر است از حال هم باخبر باشند.
- ۲- ما در خانه می‌توانیم هر کاری انجام دهیم ولی در کوچه و خیابان خیر.
- ۳- در پارک بهتر است گل‌ها را نچینیم.
- ۴- در ظهر و آخر شب، بازی‌های پرسروصدا نکنیم.