



دفترچه‌ی شماره‌ی ۱۵

ض



پایه اول

مهارت + محور

پایه ششم

بیک جلال آدینه اول دستت

قرآن: تا صفحه‌ی ۴۹

فارسی: درس ۱۱

ریاضی: تا صفحه‌ی ۱۰۵

علوم: فصل ۷: تا صفحه‌ی ۵۷

پایه دوم

پایه پنجم

پایه چهارم

پایه سوم


خدا دانایان را دوست دارد. امام علی (ع)

قرآن

با یک جمله، از آموزگارت که به تو قرآن آموخت، تشکر کن.

فارسی

۱ نام هر تصویر را بنویس.



.....

.....

.....

.....

۲ بخش دیگر کلمه‌ها را بنویس.

سُف + ← سُفره

پا + ← پارو

شا + ← شاخه

دَف + ← دَفتر

۳ برای تصویر مقابل، دو جمله بنویس.



.....

.....

۴ جمله‌ها را بخوان و کلمه‌ی مناسب را انتخاب کن.

در تابستان آسمان است. (آفتابی - برفی)

..... دُم زیبا و رنگارنگی دارد. (گوسفند - خروس)

۵ مخالف کلمه‌های زیر را بنویس.

زود \neq شیرین \neq باسواد \neq

۶ مرتب کن. مدرسه - نمی‌رفت - آدم‌برفی - به

خاموش - آتش‌نشان - کرد - آتش - را

ریاضی

۱ در جاهای خالی، عدد مناسب بنویس.

.....	۹	۱۲
-------	-------	---	-------	-------	----

۲ برای چوب‌خطها، جمع بنویس.

+ =

+ =

۳ در هر ردیف، جواب هر جمع را بنویس و علامت $<=>$ بگذار.

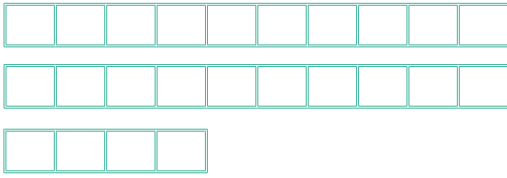
$7 + 3 + 1 = \dots\dots$

$4 + 2 + 3 = \dots\dots$

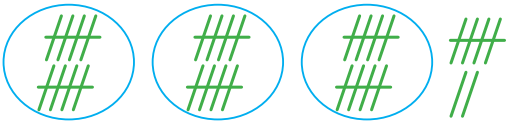
$3 + 6 + 1 = \dots\dots$

$\dots\dots + \dots\dots + \dots\dots = \dots\dots$

۴ جاهای خالی را با عدد مناسب کامل کن.



ده تایی	یکی
.....

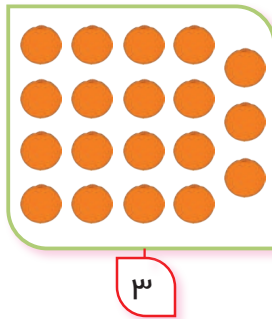


ده تایی	یکی
.....

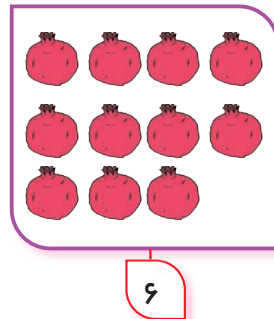
۵ با توجه به عدد زیر هر تصویر، شکل‌ها را با کشیدن خط، دسته‌بندی کن و در جای خالی،

عدد مناسب بنویس.

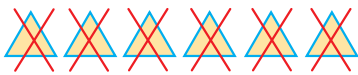
..... دسته‌ی ۳ تایی
و یکی



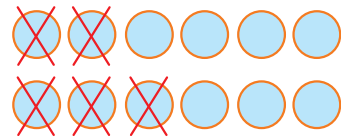
..... دسته‌ی ۶ تایی
و یکی



۶ برای شکل‌های زیر تفریق بنویس.



..... - =



..... - =

۷ جمع‌هایی را که جوابشان ۴ می‌شود، با رنگ زرد و آن‌هایی را که جوابشان ۸ می‌شود،

با رنگ سبز نشان بده.

$6 + 2$

$2 + 2$

$8 + 0$

$3 + 1$

$7 + 1$

علوم

۱ سنگ‌های زیر، مربوط به کدام تصویر است؟ وصل کن.



۲ با توجه به هر تصویر، جمله‌ها را کامل کن.

این نانوايي بسيار تميز است.



کف و دور تنور نانوايي از ساخته شده است.



داخل تنور است.



نانوا
.....

۳ کدام پل محکم‌تر است؟ آن را علامت × بزن.

پل سنگی

پل چوبی

پل ماکارونی



۱ با کمک وسایل بازیافتی یک ساعت درست کن و با خود به کلاس بیاور.

۲ به آشپزخانه برو و نام وسایل و چیزهایی که در آن‌ها نشانه‌ی «ق» به کاررفته را بنویس.

۳ در خانه‌ی شما، کجاها از سنگ استفاده شده است؟