



پایه اول

پایه ششم

مهارت + محور

بیک خلاق آدینه ششم دستک

پایه دوم

پایه پنجم

قرآن: درس ششم
ریاضی: طول و سطح
فارسی: درس ۹، ۱۰ و حکایت درخت علم
علوم: درس ششم و نهم
مطالعات اجتماعی: درس چهاردهم
هدیه‌های آسمان: درس نهم و دهم

پایه چهارم

پایه سوم

قرآن

* «هر شخصی، به نتیجه‌ی عمل خود می‌رسد.» این معنی مربوط به کدام آیه است؟ آن را بنویسید.

ریاضی

۱ جمله‌های زیر را با نوشتن واحد مناسب، کامل کنید.

(الف) مساحت زمین‌های کشاورزی را با واحد بیان می‌کنند.

(ب) مساحت دریاچه‌ی خزر برابر با ۳۷۰ هزار است.

(ج) هر کیلومتر مربع برابر با ۱۰۰ است.

(د) فاصله‌ی تهران - مشهد را با واحد بیان می‌کنند.

۲ مساحت زمینی به شکل مربع به طول ۲۰۰ متر، چند متر مربع است؟ چند هکتار است؟



۳ کدام یک از گزینه‌های زیر، با کیلومتر مربع اندازه‌گیری می‌شود؟

(الف) مساحت دریاها و طول راه‌ها (ب) سطح شهرها و خیابان‌ها

(ج) مساحت قاره‌ها و کشورها (د) زمین‌های کشاورزی و زمین‌های ورزشی

۴ به کمک جدول تناسب، واحدها را به هم تبدیل کنید.

مترمربع	۱	۴	دسی‌متر	۱		کیلومتر مربع	۱	
سانتی‌مترمربع	۱۰۰۰۰		سانتی‌متر	۱۰	۵۰	هکتار		۷۰۰

فارسی

۱ مثنوی، به چه نوع شعری گفته می‌شود؟ در صورت امکان یک بیت شعر از مثنوی معنوی بنویسید.

.....

.....

۲ در درس «درختِ علم»، علم به چه چیزهایی تشبیه شده است؟

.....

۳ غلط‌های املائی را در متن زیر پیدا کنید و درست آن‌ها را بنویسید.

پدر برای بدرغهی مهمان رفت. محمد همان‌جا نشست و مشغول خواندن آن کتاب شد. او آن‌چنان سرگرم خاندن شد که نشنید، شیخ هنگام رفتن به پدرش گفته بود: «موراقب محمد باش. به خاست خدا، آینده‌ی درخشانی خواهد داشت. او به مقام بزرگی خواهد رسید.»

.....

.....

۴ کتاب بارزش مولانا جلال‌الدین، چه نام دارد؟

.....

۵ علائم نگارشی مناسب قرار دهید.

بعد رو به محمد کرد و پرسید از دانش چه خواندی و با خود چه داری

.....

۶ کلمات زیر را به ترتیب حروف الفبا بنویسید. کلمه‌ی آخر را در جمله‌ای به کار ببرید.

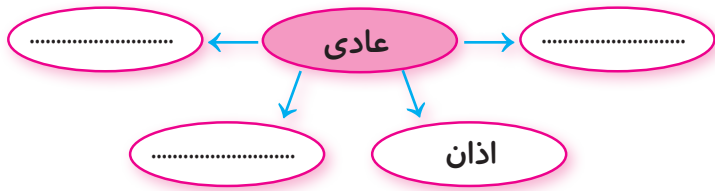
عصر - مهمان - عطار - قبلاً - فرصت

.....

.....



۷ نمودار زیر را مانند نمونه کامل کنید.



۸ با واژگان درهم ریخته‌ی زیر، جمله‌ی معناداری بنویسید.

دلش، سمرقند، می‌شود، تنگ، محمد، کوچه‌های، برای


.....

علوم


(الف) پاسخ کامل دهید.

* در شکل‌های زیر با توجه به اثر نیرو بر جسم مورد نظر، جاهای خالی را کامل کنید.

وارد کردن نیرو به جسم می‌تواند سبب تغییر آن شود.



وارد کردن نیرو به جسم، سبب شدن حرکت آن می‌شود.



پ) پاسخ دهید.

۱ تبدیلات انرژی را برای هر یک از موارد زیر بیان کنید.

کرم شبتاب:

آبی که پشت سد جمع شده، سرازیر می‌شود و توربین برق آبی را می‌چرخاند و انرژی تولید می‌شود:

۲ وسیله‌ای را نام ببرید که تبدیل انرژی در آن، به صورت زیر باشد.



۳ سوخت‌ها دارای چه نوع انرژی هستند؟

۴ هر کیلوکالری معادل چند ژول انرژی است؟

۵ سنگ کوچکی را ابتدا از ارتفاع ۲۰ سانتی‌متری و سپس از ارتفاع ۶۰ سانتی‌متری

درون ظرف آبی رها می‌کنیم، چه چیزی را مشاهده می‌کنیم؟

از این آزمایش چه نتیجه‌ای می‌گیریم؟



۶ در جاهای خالی، کلمه‌ی مناسب بنویسید.

انرژی نورانی خورشید در غذاهایی که گیاهان می‌سازند، به صورت انرژی ذخیره می‌شود.

مارماهی و سفره‌ماهی می‌توانند از خود تولید کنند و به این وسیله، دشمن را از خود دور سازند.

مطالعات اجتماعی

(الف) جاهای خالی را با کلمات مناسب پر کنید.

- ۱- در گذشته مردم با شرکت در و تیراندازی و مجالس
و خود را سرگرم می‌کردند.
- ۲- امروزه بازی‌های بین بچه‌ها رواج پیدا کرده است.
- ۳- زمانی است که پس از کار یا تکالیف درسی، فرصت پیدا می‌کنیم.

(ب) به سؤال‌های زیر پاسخ دهید.

- ۱ دو موسسه نام ببرید که در امور اوقات فراغت فعالیت می‌کنند.
- ۲ دو مورد از راه‌های استفاده از اوقات فراغت را نام ببرید.

(ج) مفاهیم زیر را تعریف کنید.

تولید انبوه:

برش کار:

هدیه‌های آسمان

به سؤال‌های زیر، پاسخ کامل بدهید.

- ۱ آداب معاشرت یعنی چه؟ رعایت این آداب نشانه‌ی چه چیزی است؟

۲ چهار مورد از رفتارهای پیامبر (ص) را در برخورد با دیگران بنویسید.

۳ پیامبر (ص)، درباره‌ی ترش‌رویی چه فرموده‌اند؟

۴ الف) اصل معاد یعنی چه؟

ب) دو دلیل بیاورید که چرا زندگی آخرت بهتر از زندگی در دنیا است؟

۵ آیه‌ی «وَلَاتَتَّبِعُوا بِالْأَلْقَابِ» ما را از انجام چه کار ناپسندی بازمی‌دارد؟



۱ مساحت یک صفحه‌ی این پیک را حساب کنید. با چه واحدهایی آن را محاسبه کردید؟
با همین واحد مساحت اتاق خودتان را به دست بیاورید. به نظر شما واحد مناسبی است؟ چرا؟

۲ به نظر شما صبر و کوشش، چه ارتباطی با موفقیت دارند؟ در یک بند بنویسید.

۳ آیا در گوشی صحبت کردن هم از آداب معاشرت است؟ نظر خود را بنویسید.